





LONGUEUR	Séquence 1	Séance 2
CE1	TRACE ÉCRITE	

	<p>Quelle bande faut-il reporter 2 fois pour mesurer la bande jaune ?</p> <p>Quelle bande faut-il reporter 4 fois pour mesurer la bande jaune ?</p> <p>Quelle bande faut-il reporter 5 fois pour mesurer la bande jaune ?</p> <p>Quelle bande faut-il reporter 10 fois pour mesurer la bande jaune ?</p> <p>Quelle bande faut-il reporter 100 fois pour mesurer la bande jaune ?</p>
	<p>2 bandes rouges ont la même longueur que la bande .....</p> <p>2 bandes blanches ont la même longueur que la bande .....</p> <p>5 bandes blanches ont la même longueur qu'une bande .....</p> <p>50 bandes bleues ont la même longueur qu'une bande .....</p> <p>10 bandes bleues ont la même longueur qu'une bande .....</p>
	<p>Pour mesurer la bande jaune, il faut ..... bandes .....</p> <p>Pour mesurer la bande jaune, il faut ..... bandes .....</p> <p>Pour mesurer la bande jaune, il faut ..... bandes .....</p> <p>Pour mesurer la bande jaune, il faut ..... bandes .....</p> <p>Pour mesurer la bande jaune, il faut ..... bandes .....</p>
	<p>1 <input type="text"/></p> <p>= 2 <input type="text"/></p> <p>= 4 <input type="text"/></p> <p>= 5 <input type="text"/></p> <p>= 10 <input type="text"/></p> <p>= 100 <input type="text"/></p>